


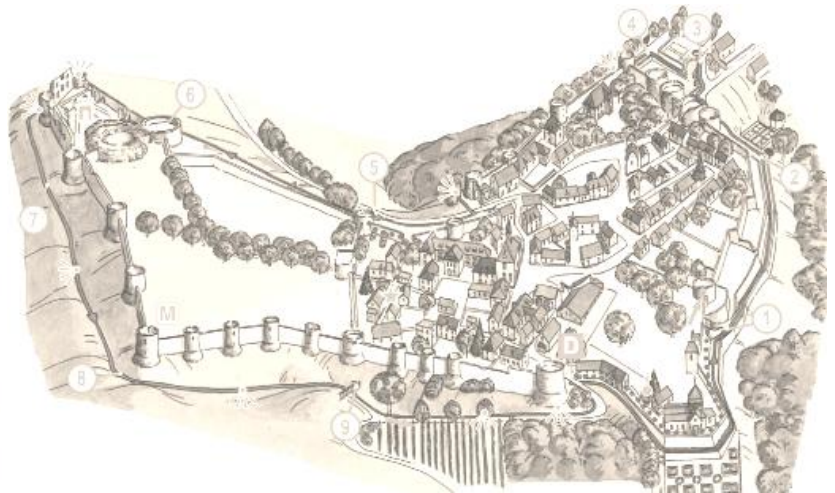
### Evaluation – le château fort - janvier 2012

1. nommez les différentes parties du château.



2. nommez les 3 parties de la ville de Coucy.

Nommez la porte principale. A quoi sert la partie centrale ?



3/ Rédiger 10 lignes expliquant les relations entre les seigneurs et les paysans dans la seigneurie.

4/ Rédiger 5 lignes minimum sur les activités des seigneurs. Il faut citer un exemple précis de seigneur.

### Evaluation – le château fort - janvier 2011

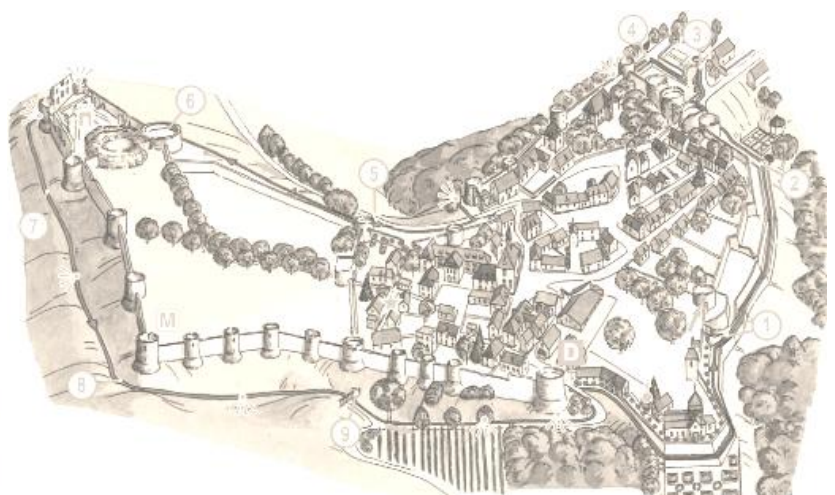

1/ Compléter le schéma de gauche à l'aide du vocabulaire manquant.

2/ Compléter la carte ci-dessous en suivant les consignes.

- a) Repasser en rouge les remparts et en vert la porte principale de Coucy.
- b) Nommez cette porte.
- c) Hachurez en noir le village.

d) Entourez en bleu le château.

e) Sur la carte, nommez la zone restante.



3/ Rédiger 10 lignes expliquant l'organisation d'une seigneurie, le travail des paysans et les fonctions du seigneur.

4/ Rédiger 5 lignes minimum sur les activités des seigneurs. Il faut citer un exemple précis de seigneur.